


Oddział Międzyuczelniany PTTK w Warszawie

Egzamin na Organizatora Turystyki - 28.05.2004 r.



Uwagi dla zdających:

Egzamin składa się z 20 pytań pogrupowanych w 6 działów.

Punktacja dla poszczególnych pytań została przedstawiona obok.

Zaliczenie egzaminu polega na uzyskaniu ze wszystkich działów, co najmniej po 61 punktów.

Uprzejmie prosimy o udzielanie odpowiedzi tylko w ramach wyznaczonych do tego celu miejsc i o pisanie w sposób czytelny.

Życzymy powodzenia
Komisja Szkoleniowa

Architektura		
1		50
2		20
3		30
razem		100
Historia turystyki i PTTK		
4		20
5		10
6		30
7		20
8		20
razem		100
Pierwsza pomoc		
9		16
10		36
11		48
razem		100
Etnografia i budownictwo drewniane		
12		35
13		30
14		35
razem		100
Przyroda i ochrona przyrody		
15		32
16		12
17		33
18		23
razem		100
Geografia turystyczna Polski		
19		40
20		60
razem		100

Architektura


Pytanie 1



Opisz w 100 słowach obiekt przedstawiony na rysunku.

Uwaga: sprawdzający będzie czytał odpowiedź tylko do setnego słowa.

Pytanie 2



Zidentyfikuj i nazwij 10 elementów budynku zaznaczając je także na rysunku.

1.		2.	
3.		4.	
5.		6.	
7.		8.	
9.		10.	

Pytanie 3

Wybierz trzy elementy budynku zidentyfikowane w odpowiedzi na poprzednie pytanie i dla każdego z nich podaj opis jego funkcji.

	nazwa	funkcja
1.		
2.		
3.		

Historia turystyki i PTTK

Pytanie 4

Zidentyfikuj odznaki turystyki kwalifikowanej i krajoznawcze przedstawione poniżej:

Pytanie 5

Opisz krótko uprawnienia Organizatora Turystyki PTTK.

1.	
2.	

Pytanie 6

Wymień pełne nazwy sześciu kół należących do Oddziału Międzyuczelnianego PTTK w Warszawie.

Pytanie 7

Opisz krótko, czym dla polskiej turystyki zasłużyli się:

Mieczysław Karłowicz	
Mieczysław Orłowicz	
Wincenty Pol	
Hugo Zapałowicz	
Mariusz Zaruski	

Pytanie 8

Przypisz do dat w zamieszczonych w poniższej tabeli następujące wydarzenia:

- 1 Michał Kazimierz Radziwiłł konno zdobywa Śnieżkę (1602 m) w Karkonoszach.
- 2 Powstaje pierwsze schronisko TT nad Morskim Okiem.
- 3 Powstaje Warszawskie Towarzystwo Cyklistów (członkiem był Bolesław Prus).
- 4 Powstaje Warszawskie Towarzystwo Wioślarskie (członkiem był Henryk Sienkiewicz).
- 5 Seweryn Goszczyński zwiedza Tatry.
- 6 Stanisław Staszic zwiedza Tatry, m.in. staje na szczycie Łomnicy (2632 m).
- 7 Ustanowiona została Góraska Odznaka Turystyczna.
- 8 Walery Eljasz drukuje swój Ilustrowany przewodnik do Tatr, Szczawnicy i Pienin.
- 9 We Lwowie powstaje Akademicki Klub Turystyczny (AKT).
- 10 Wycieczka Aleksandra Janowskiego do ruin zamku w Ogrodzieńcu — narodziny idei krajoznawstwa.

1677	1805	1832	1870	1874
1878	1884	1885	1906	1935

Pierwsza pomoc

Pytanie 9

Jakie informacje powinien zawierać meldunek o wypadku w górach?

--

Pytanie 10

Wymień 12 najbardziej niezbędnych Twoim zdaniem rzeczy, jakie powinny znaleźć się w apteczce 10-osobowej grupy wybierającej się na tygodniowy obóz letni w Bieszczady.

Pytanie 11

Postaw się w roli kierownika wyjazdu i wypełnij poniższą tabelę określając sposoby zapobiegania i leczenia poszczególnych przypadłości u uczestników wyjazdu:

przypadłość	profilaktyka	leczenie
silne łzawienie oczu (latem)		
nudności u ¼ członków grupy po upalnym dniu		
lekkie odmrożenie dłoni		
bąble na uszach (latem)		

Etnografia i budownictwo drewniane

Pytanie 12

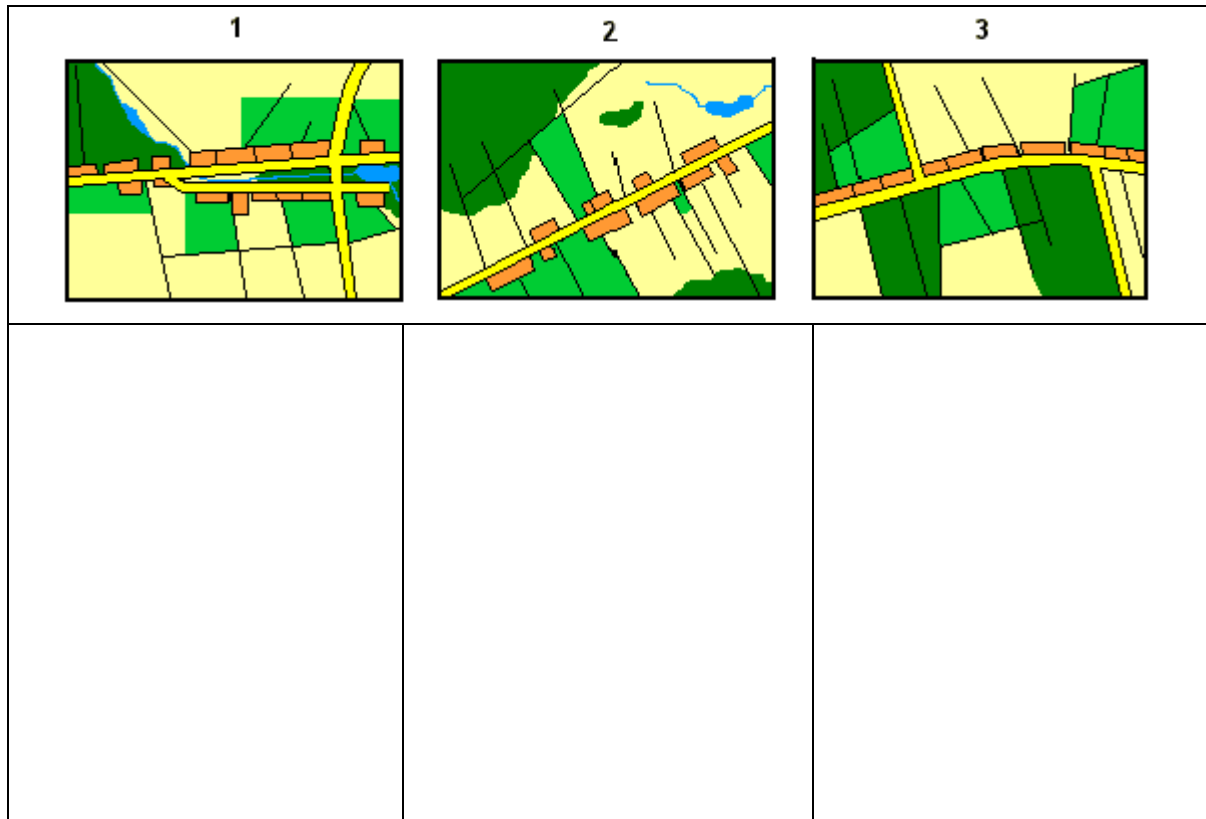


Opisz w 100 słowach obiekt przedstawiony na rysunku uwzględniając jego konstrukcję.

Uwaga: sprawdzający będzie czytał odpowiedź tylko do setnego słowa.

Pytanie 13

Opisz krótko każdy z przedstawionych poniżej układów wsi.

**Pytanie 14**

Scharakteryzuj dowolnie wybraną mniejszość narodową III Rzeczypospolitej, uwzględniając m.in. język, wyznania, rejony zamieszkania (obecnie i w przeszłości), charakterystyczne cechy kultury, zabytki itp.*

--

* Zastanów się dokładnie chodzi o mniejszość narodową.

Przyroda i ochrona przyrody

Pytanie 15

W jakich sytuacjach można legalnie przejść z grupą przez park narodowy bez szlaku:

Pytanie 16

Opisz podstawowe różnice w sposobie ochrony przyrody w parku narodowym i w parku krajobrazowym.

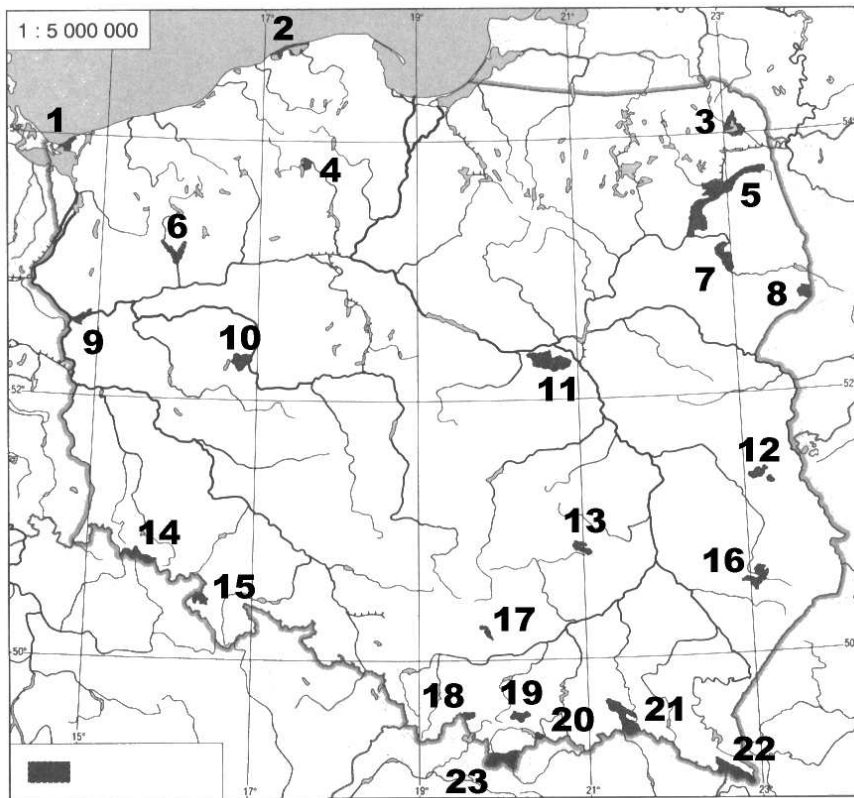
--

Pytanie 17

Opisz dowolny typ zbiorowiska leśnego występującego w Polsce wraz z wymienieniem charakterystycznych dla nich gatunków roślin.

--

Pytanie 18



Podaj nazwy zaznaczonych na mapie parków narodowych:

1.		2.	
3.		4.	
5.		6.	
7.		8.	
9.		10.	
11.		12.	
13.		14.	
15.		16.	
17.		18.	
19.		20.	
21.		22.	
23.			

Geografia turystyczna Polski

Pytanie 19

Zaznacz na poniższej mapie Polski położenie dwudziestu wybranych z poniższej listy miejsc:



- | | |
|-------------------------|------------------------|
| 1. Barania Góra (1220) | 2. Tyniec |
| 3. Cieszyn | 4. Panorama Raclawicka |
| 5. Czersk | 6. Malbork |
| 7. Drohiczyn | 8. Przemyśl |
| 9. Giżycko | 10. Łowicz |
| 11. Góry Stołowe | 12. Sandomierz |
| 13. Hajnówka | 14. Kazimierz Dolny |
| 15. Jezioro Malta | 16. Żelazowa Wola |
| 17. Jezioro Sulejowskie | 18. Wały Chrobrego |
| 19. Kalwaria Pałacowska | 20. ujście Warty |
| 21. Kłodzko | 22. Włocławek |
| 23. Krynica | 24. Lesko |

Pytanie 20

Wybierz dwadzieścia z poniższych szczytów i określ, w jakich górach (grupach górskich) leżą.

Babia Góra (1725)	
Chełm (534)	
Czupel (933)	
Kłodzka Góra (765)	
Kremenaros (1221)	
Kudłoń (1276)	
Lubomir (912)	
Łysica (612)	
Mięguszowiecki Szczyt (2438)	
Mogielica (1170)	
Orlica (1084)	
Radziejowa (1262)	
Rotunda (771)	
Runek (1080)	
Skrzyczne (1257)	
Starorobociański Wierch (2176)	
Sucha Góra (592)	
Szczeliniec Wielki (919)	
Szrenica (1362)	
Śnieżka (1603)	
Śnieżnik (1425)	
Tarnica (1346)	
Trzy Korony (982)	
Turbacz (1311)	
Wielki Dział (372)	
Wysoka (1050)	